




2022 年度「博德數學家」比賽


題目示例

1. 請圈出下列最小的數。

9 14 20 11 18


2. 下面兩組水果，哪一組比較多？在較多一組的口內加上「✓」。

第 一 組		<input type="checkbox"/>
-------------	--	--------------------------

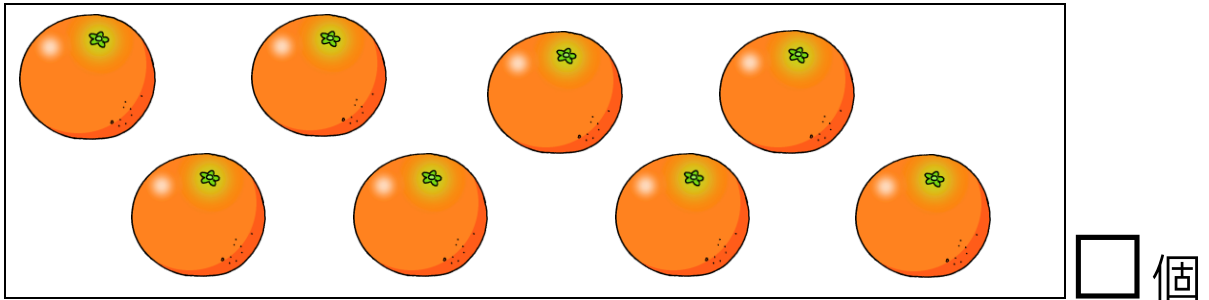
第 二 組		<input type="checkbox"/>
-------------	--	--------------------------

題目示例

3. 請圈出最大的一隻兔子。



4. 下面有多少個橙，把數字填在口內。







5. 在橫線上填上適當的數字。

18、____、16、15、____、13

題目示例

6. 每隻兔子只可吃一個 ，選出最適當的一份，並在口內加上「✓」。



<input type="checkbox"/> 	<input type="checkbox"/> 
<input type="checkbox"/> 	<input type="checkbox"/> 

7.        


以上各種小動物中，小貓和小豬之間有_____隻動物。

題目示例

8. 樹上有小鳥 2 隻，後來飛來 5 隻，

共有小鳥_____隻。



9. 在下圖中，從左至右排列， 排在第幾位？



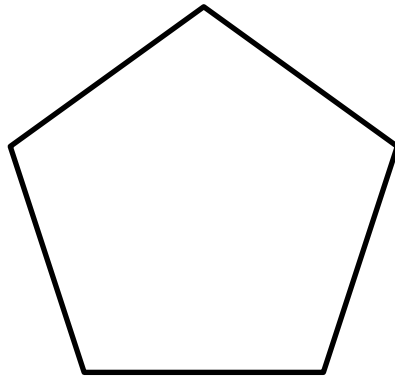
 排在第_____位

10. 下面哪一種水果較輕？在較輕水果的口內加上「✓」。




題目示例

11. 在下圖，加畫兩條直線，使分成三個三角形。

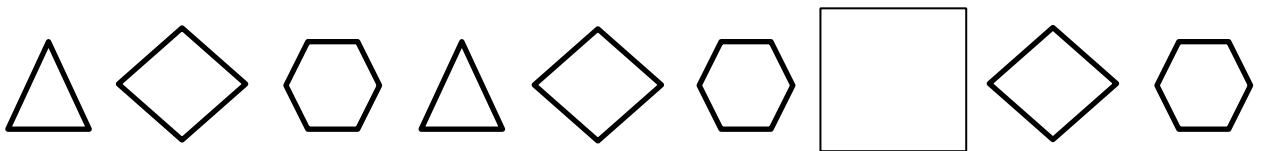


12. 碟子上有梨子 4 個，碟子外有梨子 3 個，合共有梨子幾個？




答案：合共有梨子_____個

13. 依排列次序，在方格畫上缺去的圖形。



14. 右圖中，共有多少個圓形？

答案：共有_____個圓形






題目示例


15. $5 + \underline{\quad\quad\quad} = 12$



16. $\underline{\quad\quad\quad} - 7 = 4$

17. 根據規律，下一個方格內應有多少個 😊 ？ 把答案填在 _____ 上。

			?
1	4	9	_____ 個

18.



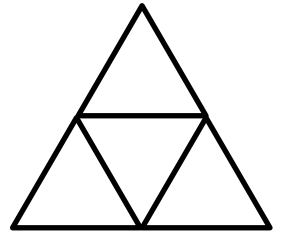
 比  (多 / 少) _____ 個。

思考題 題目示例


1. 15 個小朋友排成一行，從前面往後數，小明排第七，排在他後面的有多少人？

答案：排在他後面的有_____人

2. 右圖共有多少個三角形？ 答案：_____個



3.  =   = 

所以  = 隻 